

2021年度 武蔵野東中学校 入学試験

社 会

問題は1ページからです。

- 1 ヒガシさんたちのクラスでは、歴史上のできごとがどのような場所で展開されたのかを調べることにしました。次の資料のA～Eは日本の歴史上のできごとをヒガシさんのグループがまとめたものです。これを読んで、あとの問いに答えなさい。

資料

- A この国との国交はしばらくとぎれていたが、対馬藩の宗氏が間に入り、貿易が許された。この国からは将軍の交代ごとに使節が派遣され、幕府を訪れるようになった。
- B この地方の豪族たちは大王を中心に連合し、大和政権（ヤマト政権）をつくった。特に大仙古墳をはじめとする巨大な大王の墓がつけられたことは、この時期に大和政権の勢力が大きくなっていったことを表している。
- C 外国人によってこの地に伝えられた鉄砲は、この時代の戦国大名たちに注目され、国内でも大量に生産されるようになった。後に大名たちの中から全国の統一をめざす動きが現れた。
- D この時代に中国を支配したモンゴル民族が、日本に攻めよせた。1度目の戦いで苦戦した幕府は御家人たちに命じ、次の攻撃に備えてこの地に防塁とよばれる石垣をつくらせるなどの対策をおこなった。
- E 日本の開国を求めるアメリカ大統領からの手紙を持った使節が、4隻の軍艦をとともこの地に来航した。翌年に再び現れた使節に対し、幕府は要求を受け入れ、2つの港を開き、アメリカ船に燃料・食料などの補給をすることなどを認める条約を結んだ。

- (1) ヒガシさんがまとめた次の1・2をヒントにしてAで説明されている国の名を答えなさい。

- 1 この国との国交がしばらくとぎれていたのは、前の政権の支配者が中国（明）の征服を企て、この国に大軍を送って多くの死傷者を出す戦いをしたのが原因である。
- 2 対馬はこの国に近い島で、この国との貿易で利益を得てきた宗氏が対馬藩の藩主である。宗氏が仲立ちとなって貿易が再開し、この国からの使節は「通信使」とよばれた。

- (2) Bの大仙古墳を含む「百舌鳥・古市古墳群」は2019年にユネスコの世界遺産に登録されました。次のア～エのうち、「百舌鳥・古市古墳群」とは性質の異なる分類の世界遺産を1つ選び、記号で答えなさい。

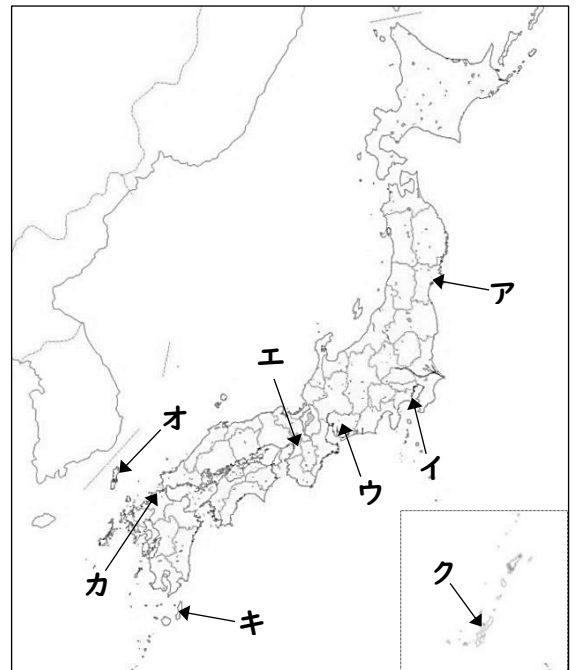
- ア 姫路城 イ 原爆ドーム ウ 石見銀山遺跡とその文化的景観
エ 屋久島

- (3) Cの鉄砲の伝来と同じころに、イエズス会のザビエルが日本にキリスト教を伝えました。このことからヒガシさんのグループは、世界の動きと日本の関係も調べることにしました。鉄砲やキリスト教の伝来に影響を与えたことをまとめたものとして、正しいものを次のア～エから1つ選び、記号で答えなさい。

- ア ポルトガル人探検家バスコ=ダ=ガマがアフリカの南端を通過してインドへ行く航路を開拓し、その後ポルトガルがアジア進出を強めた。
- イ 中国東北部の満州に勢力を伸ばそうとしていたロシアは、ドイツ、フランスとともに日本に圧力をかけ、領土の一部を中国に返還させた。こうした動きに反発する意見が強まり、ロシアとの対立が強まっていった。
- ウ イギリスでは機械の発明により、工場で大量にものが生産された。特に蒸気機関の改良が進むと、蒸気船などによって生産したものを世界中に輸出し、アジアへの支配を強めていった。
- エ イギリスとの独立戦争に勝利してアメリカ合衆国が誕生した。その後アメリカは西部への開拓を進め、太平洋に向かって領土を拡大したが、その過程で先住民の暮らしを圧迫した。

- (4) Dのできごとが起きた時の幕府の名前を答えなさい。
- (5) Eで述べられている、幕府がアメリカと結んだ条約の名称を答えなさい。
- (6) Eのできごとよりも前におきたことを次のア～エから1つ選び、記号で答えなさい。

- ア 日米修好通商条約が結ばれると、5つの港を開き貿易が始まった。
- イ 敵対していた薩摩藩と長州藩が同盟を結び、幕府を倒す動きを強めた。
- ウ 近海に外国船が現れると、伊能忠敬は幕府の命令で全国を測量し、正確な日本地図を完成させた。
- エ ノルマントン号事件がおきると、治外法権を認めた不平等条約の改正を求める声が強まった。



- (7) A～Eの下線部の場所を略地図中のア～クからそれぞれ選び、記号で答えなさい。
- (8) A～Eを解答らんにあうようにして、おきたものから古い順に記号で並べなさい。

2 ニシさんたちのクラスでは、歴史上のできごとがおきた場所を調べたことで、日本各地の産業が歴史や自然と大きくかかわっていることに気づき、さらに調べを進めることにしました。次の問いに答えなさい。

(1) 次の資料はニシさんのグループがA県の農業生産額について、同じ中部地方の新潟県と比較したものです。あとの文章は、A県についての歴史や自然の特色をまとめたものです。A県の県名を答えなさい。

A県と新潟県の農業生産額の比較（2018年）

	米	野菜	果実	畜産
A県	63億円	112億円	629億円	77億円
新潟県	1445億円	350億円	77億円	478億円

（農林水産省統計から作成）

A県についての歴史や自然の特色をまとめたもの

A県は周囲を南アルプス、八ヶ岳^{やつがたけ}などの山々に囲まれている。急な地形が多く、洪水を防ぐための治水^{ちすい}が古くからこの地域を治める者の課題であった。県の中央部分にある平地は、扇状地となっている。水はけのよい地質を利用した農業が発展した。特に代表的な作物を原料にして作るワインは国産のワインの先駆け^{さきがけ}となった。

(2) ニシさんのグループは各地の伝統産業を調べるうちに、ある共通点に気づきました。次の表は各地の伝統産業のホームページから、気になった言葉をまとめたものです。表中の()に共通して入る言葉を5文字以上で答えなさい。

場所	産業	歴史と特徴
福井県鯖江市 ^{さばえ}	メガネフレーム	増永五左衛門 ^{ますながござえもん} が明治38年に()時代に収入を得ることができる手段として、活字文化の広まりに目をつけて開始。
新潟県小千谷市 ^{おぢや}	小千谷ちぢみ	江戸時代に麻の繊維を使った高級織物として発展。湿度が必要な麻は()環境が適していた。雪さらしという作業は、染め模様を美しくする効果がある。

(3) 20世紀初めに北九州の八幡製鉄所^{やはた}で操業が始まったころ、日本の工業化は大きく進みました。日本国内では製鉄の原料となる鉄鉱石^{てっこうせき}が不足するため、外国から輸入しました。そして近年にいたるまで、鉄鉱石などの工業の原料を輸入し、工場^{てん}で自動車などの工業製品を造って輸出する貿易のやり方によって、経済を発展させてきました。このような貿易のやり方を何といいますか。漢字4字で答えなさい。

(4) 現在の日本の工業地帯・工業地域の中で最も生産額が大きいのはどこですか。次のア～エから1つ選び、記号で答えなさい。

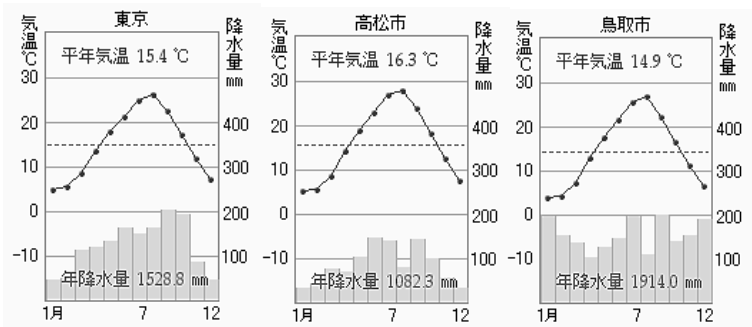
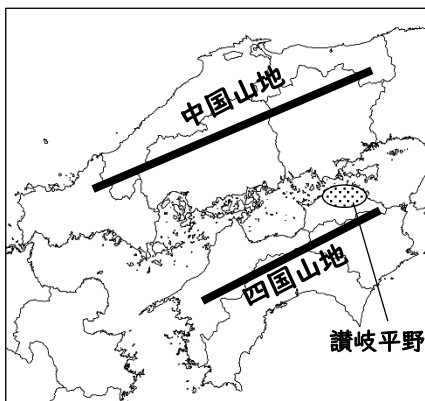
ア 京浜工業地帯
エ 阪神工業地帯

イ 中京工業地帯

ウ 瀬戸内工業地帯

(5) 瀬戸内について調べていたニシさんのグループは、香川県の讃岐平野には大小1万以上のため池があり、それらは8世紀から作られてきたことを知りました。このことについてまとめた次の文章の()①~③に当てはまる語を下の地図や雨温図を参考にして、あとのア~コからそれぞれ1つずつ選び、記号で答えなさい。

瀬戸内は2つの山地にはさまれていて、夏と冬の(①)がさえぎられるので、降水量が(②)ということが、下の雨温図(高松市は香川県の県庁所在地)を比較しても読み取れる。また讃岐平野では、そのような気候に適した(③)の栽培がおこなわれ、有名なうどんの原料となっている。



(気象庁統計より作成)

- ア 偏西風 イ 少ない ウ 米 エ 多い オ 海流
カ 北風 キ 小麦 ク 大豆 ケ ふつう コ 季節風

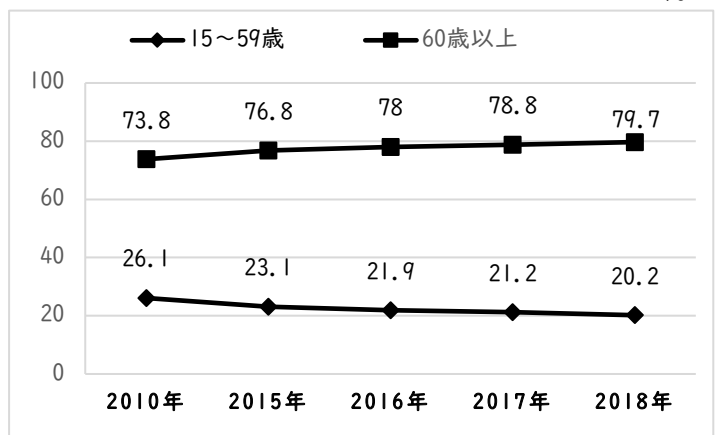
(6) 日本の産業について調べるうちに、ニシさんたちは、日本の農業がかかえる問題点に気づき、それを発表するために次の資料Aと資料Bを用意しました。ニシさんたちはどのような問題点について発表したのでしょうか。2つの資料を使って説明しなさい。

資料A 日本の販売農家数の変化
単位: 戸

2010年	163.1万
2015年	133.0万
2016年	126.3万
2017年	120.0万
2018年	116.4万
2019年	113.0万

(農林水産省統計より作成)

資料B 日本の農業人口に対する年齢別割合の変化
%



(総務省統計局データより作成)

(7) 北海道地方は、江戸時代まで蝦夷地とよばれ、幕府は松前藩を通じて交易を行っていました。明治時代以降、政府は開拓使という役所を置いて開拓を進めましたが、その過程で先住民族の生活を圧迫しました。古くから北海道地方に住んできた先住民族の人々を何とよびますか。

(8) 地球儀や地図には、縦線と横線が引かれています。このうち0度の赤道の北側と南側に平行に引かれた横線を何といいますか。

3 ミナミさんたちのクラスは、平和について調べています。次の問いに答えなさい。

(1) ミナミさんたちは、日本は20世紀に大きな戦争をした反省に立って、戦後、日本国憲法を制定したことを知りました。日本国憲法の条文(一部)のうち、平和主義を示しているものは次のどれですか。1つ選び、解答らんにあうように数字で答えなさい。

第1条 天皇は、日本国の象徴であり日本国民統合の象徴であって、この地位は、主権の存する日本国民の総意に基づく。

第9条 前項の目的を達するため、陸海空軍その他の戦力はこれを保持しない。

第11条 この憲法が国民に保障する基本的人権は、侵すことのできない永久の権利として、現在および将来の国民に与えられる。

第25条 すべて国民は、健康で文化的な最低限度の生活を営む権利を有する。

(2) ミナミさんたちは調べを進めるうちに、日本は憲法の平和主義に加え、世界でただ一つの被爆国であることから、「核兵器をもたない、つくらない、もちこませない」という非核三原則を国の方針としてかかっていることに興味を持ちました。下線部のただ一つの被爆国とはどのような意味ですか。説明しなさい。

(3) 日本国憲法の前文には、「われらは、全世界の国民がひとしく恐怖と欠乏から免れ、平和のうちに生存する権利を有することを確認する」という言葉があります。このような考え方のもとに現在世界の190か国以上の国々が加盟し、平和を守るための活動している組織は何ですか。次のア～エから1つ選び、記号で答えなさい。

ア 国際連盟

イ 国際連合

ウ 国際会議

エ 主要国首脳会議

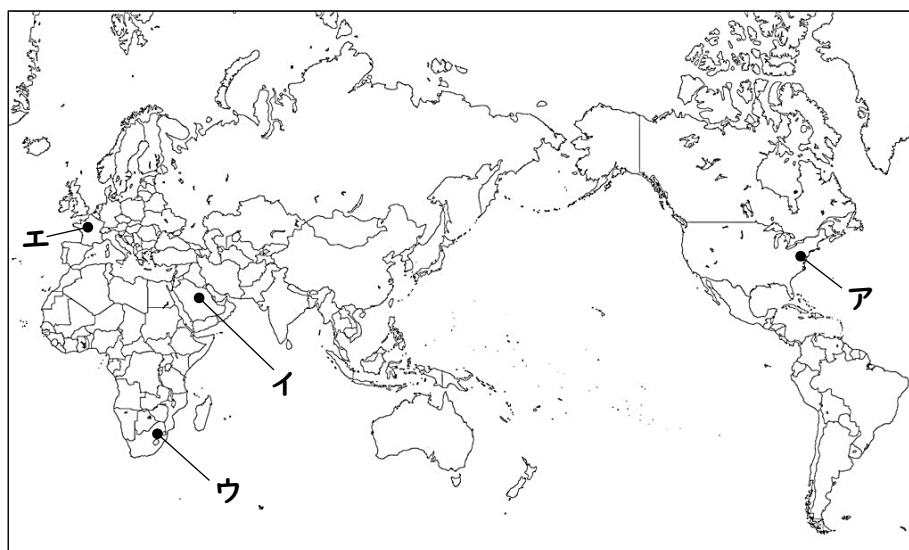
(4) ミナミさんたちは、平和について調べるうちに国と国との紛争だけでなく問題が各地で起きていることを知りました。2001年9月11日には、アメリカで旅客機を奪った集団がニューヨークの高層ビルに乗客を乗せたまま突入する事件が起きました。特定の集団が政治的な目的を果たすために、暴力にうったえて建物を破壊したり、一般の人を無差別に死傷させたりする行為を何といいますか。**カタカナ**で答えなさい。

(5) ミナミさんたちは、内戦の続くアフガニスタンからパキスタンに逃れた難民なんみんの生活を助け医療活動を行っているペシャワール会という日本の組織があることを知りました。2019年12月に銃撃に合い、亡くなられた医師の中村哲なかむらてつさんは、ペシャワール会の現地代表として長年活動を続けてきました。このように平和や人権、環境などの問題に対して、国境を越えて活動している民間の団体の略称りやくしょうは何ですか。次のア～エから1つ選び、記号で答えなさい。

ア TPP イ GDP ウ ODA エ NGO

(6) ミナミさんたちは、学習を進めるうちに自分の国の利益ばかりに目を向けていては、世界が協調して平和を築くことはできないと感じました。2015年の国連サミットで採択された「持続可能な開発目標」は、「貧困をなくそう」「安全な水とトイレを世界中に」「気候変動に具体的な対策を」といった17の目標を2030年までに国際社会全体で達成しようというものです。「持続可能な開発目標」の略称を**アルファベット4文字**で表しなさい。

(7) オリンピックは平和の祭典といわれています。東京オリンピックの次の大会は、パリで開催されることになっています。パリの位置を次の略地図中のア～エから1つ選び、記号で答えなさい。



※のらんには記入しないこと

1

(1) (2) (3)

(4) (5)

(6) (7)

A	B	C	D	E
---	---	---	---	---

(8)

2

(1) (2)

(3) (4)

(5)

①	②	③
---	---	---

(6)

※

※

氏名

2

(7) (8)

※

3

(1)

(2)

(3) (4)

(5) (6) (7)

※

※のらんには記入しないこと

1 (1)~(6), (8) 各2点 (7) 各1点(計5点)

(1) 朝鮮 (ちょうせん) (2) エ (3) ア

(4) 鎌倉 (かまくら) 幕府 (5) 日米和親 (にちべいわしん) 条約

(6) ウ (7) A 才 B エ C キ D カ E イ

(8) B → D → C → A → E

2 (1)~(4), (6)~(8) 各2点 (5) 各1点(計3点)

(1) 山梨 (やまなし) 県 (2) 雪の降る冬の

(3) 加工貿易 (4) イ

(5) ① コ ② イ ③ キ

(6) この約10年で農家の数は約50万戸減り、農業人口に対する年齢別の割合をみると、高齢化が進んでいる(問題)。

※ /19

2

(7) アイヌ (民族) (8) 緯線 (いせん)

3

(1)~(7) 各2点

(1) 第9条

(2) 戦争で核兵器の被害を受けた世界でただ一つの国

(3) イ (4) テロ (テロリズム)

(5) エ (6) SDGs (7) エ

※ /14

※ /17