

2020年度 武蔵野東中学校 入学試験

社 会



1 次の会話文を読んで、あとの問いに答えなさい。

先生：次の校内新聞の特集は決まりましたか？

花子：私は「日本史上の女性」をテーマに考えています。

太郎：僕は「幕府」というテーマを考えています。

先生：2人ともおもしろそうなテーマですね。それでは詳しく調べて、明日報告してください。

2人：はい。

～翌日～

太郎：先生、「幕府」について調べたことを表（資料A）にまとめてみました。

花子：私は、社会科の教科書に登場する女性を「さくいん」から書き出してみました。資料Bと資料Cはその女性たちに関連する語句やできごとをまとめたものです。

先生：2人とも資料にまとめていたり、関連することがらを調べていたりして、工夫している点が良いですね。次の校内新聞がとても楽しみです。

資料A

世紀	幕府	現在の都道府県にあてはめると	初代将軍
12～14	鎌倉幕府	神奈川県	源頼朝
14～16	室町幕府	(あ)	足利尊氏
17～19	江戸幕府	東京都	(い)

資料B

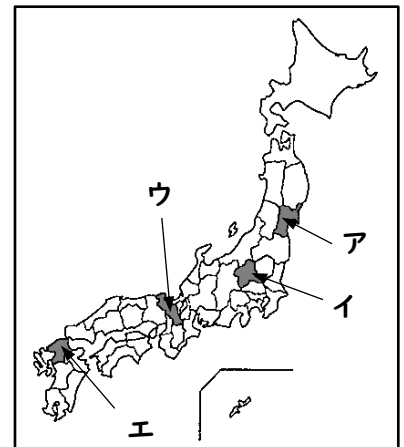
人物名
清少納言
津田梅子
卑弥呼
平塚らいてう
北条政子
紫式部
与謝野晶子

資料C

人物と関連することがら
「君死にたまふことなかれ」
「枕草子」
岩倉使節団
「源氏物語」
承久の乱
邪馬台国
女性解放運動

- 資料Aについて、鎌倉幕府では将軍と御家人が「御恩」と「奉公」の強い結びつきによって成り立っていました。このうち「奉公」の意味を説明しなさい。
- 資料Aについて、室町幕府の所在地として、(あ)に当てはまる現在の都道府県名を漢字で答えなさい。また、その位置を右の略地図中のア～エから1つ選び、記号で答えなさい。
- 資料Aについて、(い)には江戸幕府の初代将軍となった人物名がはいります。この人物名を答えなさい。

略地図



- (4) 資料Cにある「源氏物語」の著者として正しい人物を、資料Bから1人選び答えなさい。
- (5) 資料Cにある承久の乱は、源氏が絶えたあと、上皇を中心とする朝廷が、幕府を倒して政治の実権をにぎろうとしておこった戦いです。幕府がこの戦いで勝利したのち、朝廷や西国の監視をするために置いた役職（機関）を何といいますか。次のア～エから1つ選び、記号で答えなさい。

ア 執権                      イ 管領                      ウ 老中                      エ 六波羅探題

- (6) 資料Cにある「君死にたまふことなかれ」は、資料Bのいずれかの人物が、ある戦争で兵士として出兵した弟を心配して書いたという詩です。この戦争に入る前、日本はイギリスと同盟を結び、戦争ののち、韓国に対する支配を強め、韓国を併合して植民地としました。このときの戦争を、次のア～エから1つ選び、記号で答えなさい。

ア 日清戦争                      イ 日露戦争                      ウ 第一次世界大戦                      エ 第二次世界大戦

- (7) 資料Dは倭（日本）について書かれた中国の歴史書です。このころの日本のようすについて説明したものとして適するものを、次のア～エから1つ選び、記号で答えなさい。

- ア 日本のようすを神話として伝える『古事記』や、『日本書紀』という歴史書がつくられた。
- イ ひな祭りや七夕などの年中行事が行われるようになり、日本風の文化が広まっていった。
- ウ 貝や木の実を集めたり、石や骨などで作った道具を使って動物や魚をとったりしてくらしした。
- エ 米作りが広がるとむらどうしで争いがおこり、くにをつくる王があらわれるようになった。

「倭（日本）では、いちばん勢いの強い邪馬台国が30ほどのくにを従えている。倭は、もとは男の王が治めていたが、争いが絶えなかった。そこでくにぐにが相談し、邪馬台国の女王卑弥呼を倭の王にたてると、争いが終わって平和になった。」

- (8) 次の説明文に適する人物を、資料Bから1人選び答えなさい。

この人物は、明治時代から昭和時代にかけて活躍した女性です。「もともと、女性は太陽であった。しかし今、女性は月である。他によって生き、他の光によってかがやく、病人のような青白い顔色の月である。わたしたちは、かくれてしまったわたしたちの太陽を取りもどさなければならない。」とうたえて、仲間とともに、女性の地位向上を目指す運動をつづけました。

(9) 資料Bの津田梅子は、女子留学生として資料Cの岩倉使節団に同行してアメリカやヨーロッパなどの海外に渡りました。この使節団の目的として適するものを、次のア～エから1つ選び、記号で答えなさい。

- ア 日米修好通商条約の不平等な内容について、条約の改正をすすめるため。
- イ 満州国の成立について、国際連盟で認めてもらうため。
- ウ 樺太と千島の帰属について、ロシアとの領土の画定を協議するため。
- エ サンフランシスコ平和条約について、日本の独立を認めてもらうため。

2 日本自動車の生産量が世界有数であることを知った花子さんは、日本の自動車メーカー売上高上位5社(2018年)を調べてみることにしました。次の資料E、資料Fを見て、あとの問いに答えなさい。

資料E

自動車メーカー	本社所在地(都道府県)	売上高(億円)		輸出台数(台)	
		2017年	2018年	2017年	2018年
トヨタ	愛知県	293,795	302,257	1,816,932	1,890,170
マツダ	広島県	34,740	36,647	793,173	829,963
スズキ	静岡県	37,572	38,715	206,744	193,947
日産	神奈川県	119,512	115,742	627,385	504,168
ホンダ	東京都	153,611	158,886	81,061	176,715

(各社ニュースリリースをもとに作成)

資料F

年	1985	1990	1995	2000	2005	2010	2015	2016	2017
国内生産台数	1227	1349	1020	1014	1080	963	928	920	969
輸出台数	673	583	379	445	505	484	458	463	471
海外生産台数	89	326	556	629	1061	1318	1809	1898	1974

(台数の単位は万台、日本自動車工業HPより作成)

(1) 花子さんは、資料Eにある本社所在地のある場所がどこかについて調べてみました。東京都以外の4県について、県名と県庁所在地名が異なる県を1つ選び、その県名と県庁所在地名を答えなさい。

(2) 資料Eについての説明として誤っているものを、次のア～エから1つ選び、記号で答えなさい。

ア 自動車メーカー5社の2018年の売上高を合計すると、60兆円以上となる。

イ 2017年と2018年の売上高を比較すると、売上高を伸ばしている自動車メーカーのほうが多い。

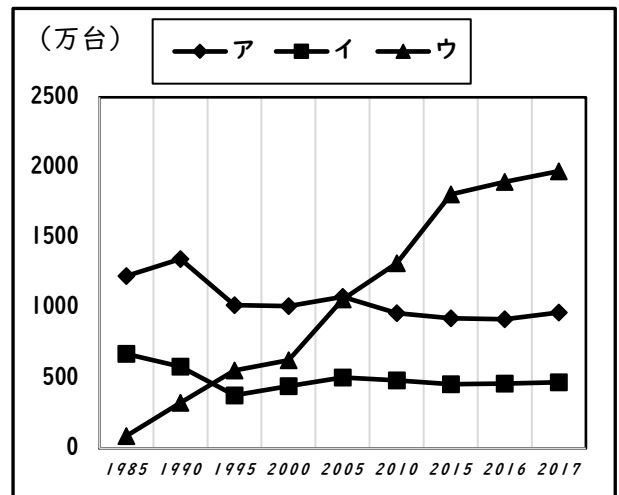
ウ 輸出台数について自動車メーカー5社の2017年と2018年を比較すると、輸出台数が増加した自動車メーカーのほうが減少した自動車メーカーよりも多い。

エ 関東地方に本部がある自動車メーカー2社と中部地方に本社がある自動車メーカー2社の2017年の売上高をそれぞれ合計すると、関東地方の2社の合計のほうが売上高は高くなる。

(3) 花子さんは資料Fの内容を、資料Gのような折れ線グラフにして表してみました。輸出台数を表すものを、資料G中のア～ウから1つ選び、記号で答えなさい。

(4) 資料Fと資料Gは同じ内容のデータを、異なる方法で表しています。花子さんは、資料Fには「年ごとの細かい数字が正しく読み取れる」という利点があると思いました。資料Gにはどのような利点がありますか。説明しなさい。

資料G

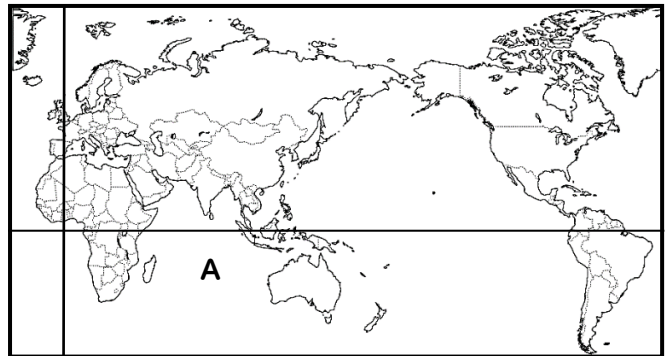


(5) 花子さんは日本地図に資料Eの本社所在地を書き込みました。すると、所在地のある都県が太平洋ベルトにそって並んでいることに気づきました。最も西に位置する広島県から最も東に位置する東京都までどのように並んでいますか。解答欄に当てはまる3つの県名を答えなさい。

3 世界の略地図を見て、次の問いに答えなさい。

略地図

(1) 略地図中のAの海洋の名称を答えなさい。



(2) フランス、エジプト、ブラジル、カナダについて、それぞれの国がどの大陸に位置するかを正しく示したものを、次のア～エから1つ選び、記号で答えなさい。

	フランス	エジプト	ブラジル	カナダ
ア	ユーラシア大陸	アフリカ大陸	北アメリカ大陸	南アメリカ大陸
イ	南アメリカ大陸	ユーラシア大陸	アフリカ大陸	北アメリカ大陸
ウ	ユーラシア大陸	アフリカ大陸	南アメリカ大陸	北アメリカ大陸
エ	南アメリカ大陸	ユーラシア大陸	北アメリカ大陸	アフリカ大陸

(3) 次のア～エには、フランス、エジプト、ブラジル、カナダのいずれかが当てはまります。エジプトに当てはまるものを、ア～エから1つ選び、記号で答えなさい。

	人口(万人) 2018年	国土面積 (万 k m <sup>2</sup> )	首都の およその緯度	首都の およその経度
ア	9,842	100.0	北緯 30 度	東経 31 度
イ	6,699	54.4	北緯 48 度	東経 2 度
ウ	20,947	851.2	南緯 15 度	西経 47 度
エ	3,724	998.5	北緯 45 度	西経 45 度

(世界銀行、外務省、国土地理院HPなどより作成)

4 ヒガシくんは、昨年（2019年）8月21日に投開票が行われた第25回参議院議員選挙について調べることにしました。すると、この選挙を受けて、8月1日に国会が召集されたことがわかりました。国会、内閣、裁判所について、次の問いに答えなさい。

(1) この選挙を受けて、8月1日に召集された国会として正しいものを、次の資料Hの国会の種類の中から1つ選びなさい。

資料H

国会の種類	国会の説明
通常国会（常会）	毎年1回、1月に召集され、期間は150日。翌年度の予算を決める。
臨時国会（臨時会）	内閣や議員の求めなどによって臨時に開かれる。期間はそのつど決める。
特別国会（特別会）	衆議院議員の総選挙のあと、30日以内に開かれ、内閣総理大臣を指名する。
参議院の緊急集会	衆議院の解散中、緊急の必要があるときに召集する。

(2) この選挙では、重度の身体障がいがある2名の議員が当選しました。そのため、本会議場の議席に大型の車いすが使える空間が確保されたり、介助者の立ち入りや採決時の投票代行が認められたりするようになりました。このように高齢者や障がいがある人たちにとって障壁となるものを取りのぞいた状態を何といいますか。カタカナ6字で答えなさい。

(3) 国会、内閣、裁判所は、司法権、立法権、行政権のいずれかの国権をもっています。国権とは国民を統治し支配する国の権力のことです。国会、内閣、裁判所は、それぞれの国権をもっていますか。次のア～エから正しい組み合わせを1つ選び、記号で答えなさい。

	司法権	立法権	行政権
ア	国会	内閣	裁判所
イ	裁判所	国会	内閣
ウ	国会	裁判所	内閣
エ	裁判所	内閣	国会

(4) 日本で初めての内閣総理大臣は、1885年に内閣制度がつくられたさいに決められました。日本で最初の内閣総理大臣となった人物を答えなさい。

(5) 国会、内閣、裁判所は、それぞれの機関が独立して他の権力をおさえあっています。このしくみを「三権分立」といいますが、このように三つの国権を独立させている理由を説明しなさい



氏名	
----	--

※のらんには記入しないこと

1

(1)  ※

3

(1)  (2)  (3)  ※

(2) 

都道府県名	選んだ記号
-------	-------

 (3)

4

(1)  (2)  ※

(4)  (5)  (6)

(3)  (4)

(7)  (8)  (9)

(5)

2

(1) 

県名(1つ選ぶ)	県庁所在地名
県	市

 (2)  (3)  ※

(4)

(5) 

最も西				最も東
広島県	— ( ) 県	— ( ) 県	— ( ) 県	— 東京都

※のらんには記入しないこと

1 (1) 4点 (2) ~ (9) 各2点

※

(1) いざ合戦になったときは、御家人が将軍に従い、命をかけて幕府のために戦うこと。など

(2) 都道府県名 京都府 選んだ記号 ウ (3) 徳川家康

(4) 紫式部 (5) エ (6) イ

(7) エ (8) 平塚らいてう (9) ア

2 (1) ~ (3) (5) 各2点 (4) 4点

※

(1) 県名(1つ選ぶ) 神奈川 県 愛知 県 県庁所在地名 横浜 市 名古屋 市 (2) エ (3) イ

※二つの組み合わせのうちどちらか1組が合っていれば正解。

(4) それぞれの項目の増減などの変化の様子が、目で見て直感的にわかりやすい。など

(5) 最も西 広島県 — ( 愛知 ) 県 — ( 静岡 ) 県 — ( 神奈川 ) 県 — 最も東 東京都

3 (1) ~ (3) 各2点

※

(1) インド洋 (2) ウ (3) ア

4 (1) ~ (4) 各2点 (5) 4点

※

(1) 臨時国会 (臨時会) (2) バリアフリー

(3) イ (4) 伊藤博文

(5) お互いの権力を監視し、1つが暴走するのを防ぐため。三権が1つの機関に集中すると、独裁政治になるため。など